

Guía Acumulativa de Matemática

Nombre:

Curso: 5°Básico Fecha:

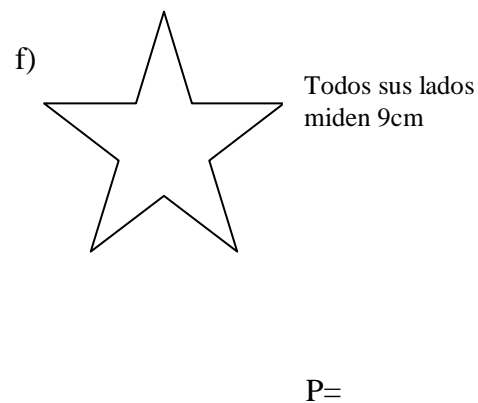
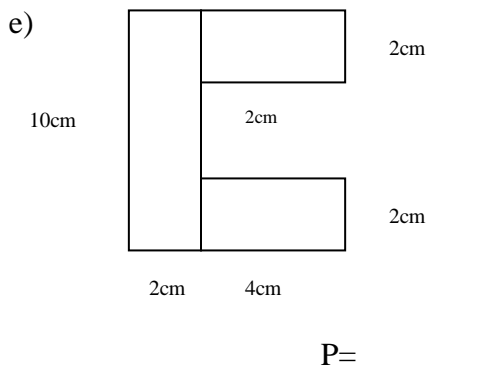
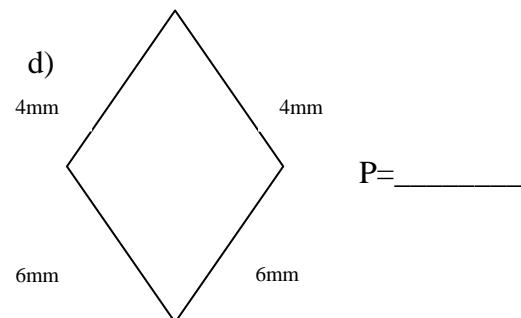
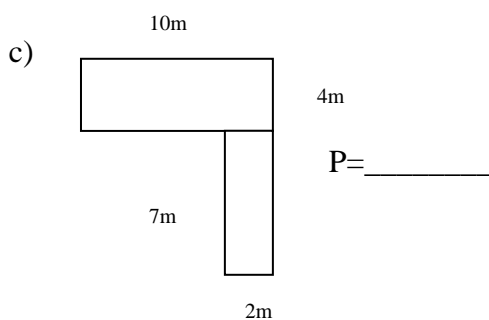
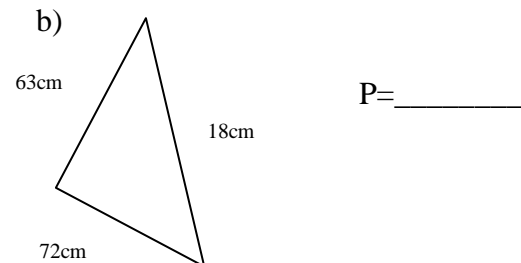
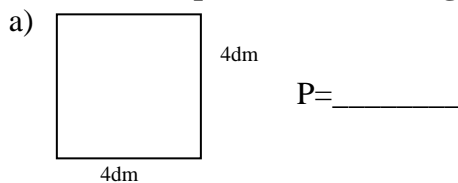
Puntos:

Nota: Utilizando lo visto en la unidad de “Área y perímetro”, responde las siguientes preguntas.

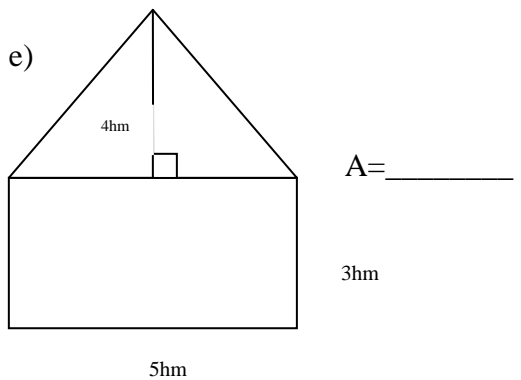
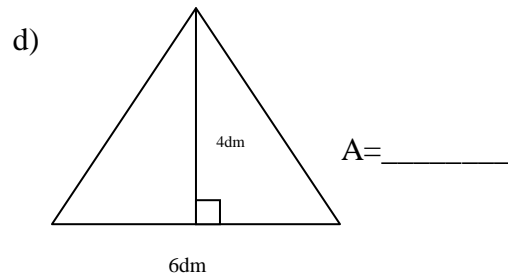
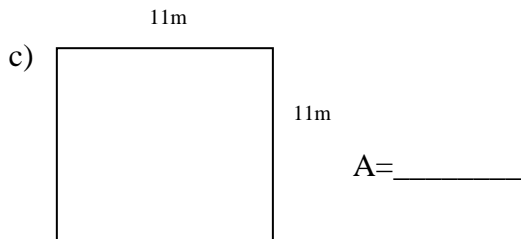
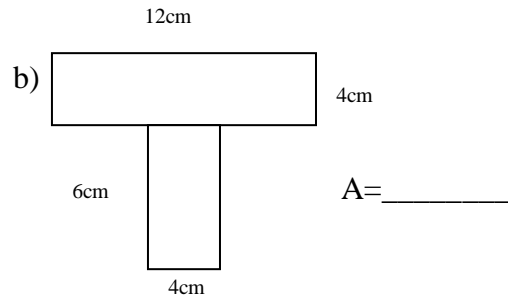
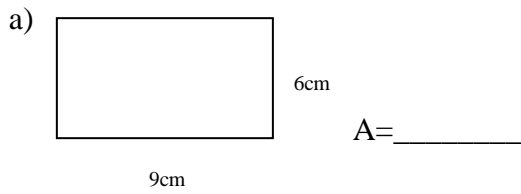
I. Traduce cada medida a las unidades dadas.

- 678m son equivalentes a _____ mm.
- 61.000.000m² son equivalentes a _____ hm².
- 44.000m son equivalentes a _____ Km.
- 7890 dam son equivalentes a _____ dm.
- 56Km son equivalentes a _____ m.
- 98cm² son equivalentes a _____ mm².
- 67.892.000dm son equivalentes a _____ hm.
- 731Km² son equivalentes a _____ dm².
- 980.000mm son equivalentes a _____ m.
- 17dm son equivalentes a _____ cm.

II. Calcula el perímetro de las figuras que aparecen a continuación.



III. Calcula el área de las siguientes figuras.



IV. Dibuja y calcula lo pedido.

a) Calcula el perímetro y el área de un cuadrado de lado 4 m.

b) La base de un rectángulo es 5 m. y la altura la mitad de la base. Calcula el área y el perímetro.

c) ¿Qué medida tienen los lados de un cuadrado que tiene un perímetro de 24 mm?

d) Si tengo un terreno cuadrado de lados de 9 metros y deseo cerrarlo con 4 corridas de alambre. ¿Cuánto alambre necesito?.